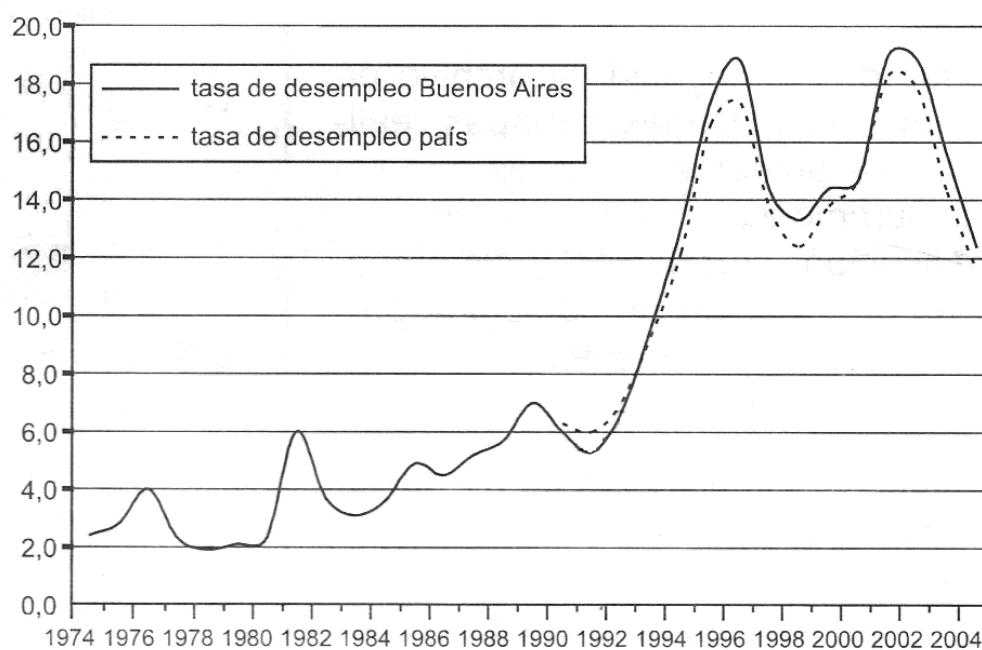


Ciencias Sociales

1. David Ricardo, uno de los teóricos clásicos de la economía sostenía que "el valor de cada artículo, o sea la cantidad de cualquier otro artículo por el cual pueda cambiarse, depende de la cantidad relativa de trabajo que se necesita para su producción". El anterior planteamiento significa que

- A. el trabajo es la fuente del valor de cambio de las mercancías.
- B. los precios de las mercancías dependen del costo de las materias primas.
- C. el trabajo es la principal fuente de la riqueza humana.
- D. los precios de las mercancías dependen del mercado libre.

RESPONDA LAS PREGUNTAS 2 Y 3 DE ACUERDO CON LA GRÁFICA



La gráfica representa la tasa de desempleo en Argentina entre los años 1974 y 2004.

2. En la gráfica puede observarse que

- A. el desempleo ha aumentado de manera uniforme y sostenida durante los últimos 30 años, pasando de 2% en 1974 al 12% en 2004.
- B. a partir de 1994 el desempleo se sostuvo por encima de 2 dígitos y Buenos Aires mantuvo la tendencia del resto del país.
- C. el comportamiento del desempleo en Buenos Aires es diferente al de las demás ciudades del país.
- D. el desempleo en Argentina se mantuvo en algunos años por debajo del nivel de otros países de América Latina.

3. Tasas de desempleo como las que registró Argentina en los últimos 10 años están asociadas con

- A. crecimiento económico.
- B. inflación.
- C. recesión económica.
- D. revaluación.

4. La amnistía se entiende como la extinción de la responsabilidad penal por haber cometido un delito político y el perdón del mismo por parte del Estado. Esta facultad es exclusiva del Estado debido a que

- A. es el único titular de Derecho facultado y legitimado para castigar o perdonar delitos.
- B. una de las obligaciones del Estado es la aplicación de la justicia en la sociedad.
- C. las sociedades contemporáneas prefieren solucionar los conflictos políticos sin usar la fuerza.
- D. los Estados tienen la responsabilidad civil de responder por los actos de sus ciudadanos.

5. En Colombia, la Corte Constitucional revisa las leyes que son aprobadas por el Congreso con el propósito de determinar si

- A. la ley se ajusta al espíritu de la Constitución.
- B. el gobierno está de acuerdo con la nueva legislación.
- C. la ley es benéfica para los intereses nacionales.
- D. el Congreso valoró las consecuencias de su aplicación.

6. Algunos analistas políticos han planteado recientemente la necesidad de adelantar una reforma profunda a la Organización de Naciones Unidas, especialmente a mecanismos como el derecho de veto del que gozan algunas naciones desarrolladas en el Consejo de Seguridad. La supresión de este mecanismo se propone debido a que los países desarrollados

- A. han protegido desde la ONU, los intereses de Israel en Oriente Medio en detrimento del pueblo palestino.
- B. utilizan sus privilegios en la ONU para proteger sus intereses e incluso para impedir la aplicación de sanciones en su contra.
- C. se han mostrado incapaces de contener los conflictos que se producen con frecuencia en diferentes lugares del mundo.
- D. han aprovechado sus privilegios en la ONU para obtener ventajas comerciales y establecer tratados de libre comercio.

7. Para algunos expertos en temas de política, el paramilitarismo en Colombia ha sido el resultado de la estrategia de élites nacionales y regionales por acallar la oposición, aplicada desde mediados del siglo XX hasta nuestros días. Teniendo en cuenta lo anterior, una manera integral de superar el paramilitarismo como fenómeno histórico y estructural implicaría

- A. investigar, juzgar y castigar a quienes han auspiciado la formación de grupos armados ilegales.
- B. intensificar la lucha contra el narcotráfico que es la principal fuente de recursos económicos de la guerra.
- C. instituir la vigencia plena de la democracia, la Constitución, los derechos humanos y la justicia.

D. adelantar diálogos con los diferentes grupos armados al margen de la ley para que se desmovilicen.

8. Algunos estudiosos de la política afirman que la división étnica es la que más puede generar partidos políticos y estimular la competencia electoral en sociedades multiétnicas. Teniendo en cuenta lo anterior, se podría decir que entre mayor sea la diversidad social y cultural

A. las sociedades tendrán menos cantidad de partidos políticos.

B. serán mayores las probabilidades de existencia de conflictos interétnicos.

C. las sociedades tendrán un mayor número de partidos políticos.

D. serán menores las probabilidades de existencia de conflictos interétnicos.

9. Para rechazar las visiones formalistas y netamente procedimentales de democracia, según las cuales lo más importante de ésta son los procesos electorales, se puede plantear que

A. la democracia es el poder del pueblo y solo se requiere crear las condiciones para que se manifieste.

B. la existencia de reglas de juego democráticas no basta para considerar una sociedad como democrática.

C. la democracia requiere ciudadanos informados y mecanismos para facilitar la participación política.

D. los regímenes políticos democráticos han desarrollado unas reglas de juego para garantizar la representación política.

10. Para entablar una Acción de Tutela en Colombia, es necesario establecer inicialmente

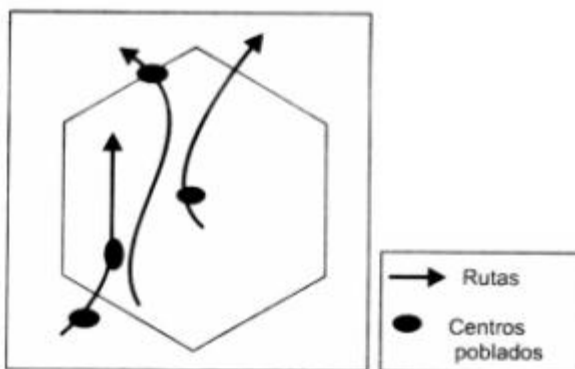
A. si se ha violado algún derecho a la persona.

B. la responsabilidad que le compete al Estado colombiano.

C. si se ha violado un derecho fundamental.

D. la gravedad de los daños ocasionados a la víctima.

11.



El siguiente corema representa los circuitos comerciales de la Nueva Granada durante el siglo XVIII. De acuerdo con la gráfica, se puede entender que las rutas del comercio en ese periodo

A. seguían el sentido de las cordilleras y ríos valles interandinos, sin recorrer la Orinoquía y la Amazonia.

B. eran activas, especialmente en cuanto al mercado de metales preciosos, esclavos y cultivos de caña y tabaco.

C. circulaban especialmente por el territorio colombiano para seguir rumbo a Ecuador, Perú y Chile, o hacia Venezuela.

D. utilizaban antiguos caminos y centros poblados indígenas como Ipiales, Silvia, Tunja y la Sierra Nevada de Santa Marta.

12. En Colombia el triunfo liberal de 1930, llevó al poder a este partido luego de 45 años de hegemonía conservadora. Los liberales estaban decididos a sacar adelante una reforma constitucional que defendiera un programa de Estado intervencionista, capaz de orientar la vida económica y de colocarse como árbitro en los conflictos entre las distintas clases sociales. La posición liberal criticaba el proyecto conservador de la Regeneración por considerarla una propuesta

A. teocrática, apta para una república rural, atrasada y tradicionalista.

B. inadecuada para el país, dado el peso de la economía campesina y hacendaria.

C. elitista, porque encarnaba los intereses de un sector de la burguesía cafetera.

D. popular, que beneficiaba a trabajadores urbanos y rurales.

13. Durante la Edad Media el poder económico y político estaba relacionado con la posesión de tierras y la dominación de población campesina para que las trabajara. Una explicación de esta situación es el

A. fuerte fraccionamiento del poder y los frecuentes conflictos y disputas armadas.

B. declive del imperio romano que no fue posible sustituir por parte de ningún reino.

C. estancamiento de las ciudades y la disminución de la población campesina.

D. predominio de la mentalidad cristiana que predicaba la oración y el trabajo.

14. Con la expansión comercial europea a finales de la Edad Media, florecieron algunas ciudades, como Venecia y Génova en el Mediterráneo y algunas ciudades bálticas. En estas ciudades el capital económico se concentró en pocas familias, que manejaban negocios en diversas actividades como el transporte, la banca, la minería y el comercio a gran escala. Dicha expansión se evidenció cuando

A. los metales preciosos escasearon para su circulación como dinero.

B. el préstamo de dinero se realizó a intereses muy altos, estimulando la usura.

C. las familias nobles obtuvieron objetos de lujo para su distinción social.

D. aumentó el tráfico de mercancías y se adoptaron nuevas técnicas mercantiles.

15. Los principales vestigios de comunidades humanas precolombinas en Suramérica se encuentran ubicados a lo largo de la cordillera de los Andes, en lo que hoy corresponde a Venezuela, Colombia, Ecuador, Bolivia, Perú, Chile y Argentina, al igual que en el sector oriental de Brasil y Uruguay. En términos del manejo de la información el establecimiento de estos vestigios está relacionado con

A. los mitos y las leyendas que perviven en las comunidades indígenas actuales, que relatan la extensión territorial de sus pueblos en el pasado.

- B. la estructura urbana actual que está superpuesta sobre antiguos asentamientos indígenas.
- C. el proceso de catalogación y archivo de los relatos, descripciones y mapas realizados por los primeros europeos que llegaron a Suramérica.
- D. la identificación, correlación y sistematización de información arqueológica-proveniente de diferentes fuentes.

16. Desde mediados del siglo XX se ha detectado que los procesos económicos de los países desarrollados o industrializados tienden a depender cada vez más de ciertos lugares específicos, donde lo que se produce no son materias primas, manufacturas o servicios; son los centros de innovación tecnológica, como "Silicon Valley", donde se genera nuevo conocimiento que impacta y retroalimenta a todos los demás sectores productivos. Este nuevo sector de la economía empieza a denominarse como

- A. investigativo.
- B. de servicios especializados.
- C. cuaternario.
- D. de economía globalizada.

17. Algunos enfoques acerca de la globalización afirman que éste no es un fenómeno unidireccional ni externo que llega desde fuera impactando las realidades locales, sino que más bien se traía de una intensificación de las interconexiones mundiales. Desde este punto de vista podría decirse que la globalización

- A. es igual para todos los países del mundo.
- B. afecta de manera distinta cada país.
- C. es un proceso histórico irreversible.
- D. ocurre especialmente en el capital financiero.

18. El periodo anterior a la Revolución Francesa es conocido en la historiografía como "Antiguo Régimen". Esta fue una época dominada por

- A. la aristocracia y la iglesia
- B. la burguesía y los artesanos
- C. el clero y la milicia
- D. artesanos y campesinos ricos

19. A partir de 1930, la organización sindical en Colombia recibió un impulso decidido, debido a que el partido liberal

- A. organizaba las huelgas contra los conservadores.
- B. siempre estuvo al lado de los trabajadores.
- C. necesitaba una base electoral grande y fuerte.
- D. se oponía a los sectores patronales urbanos y rurales.

20. Los mapas son utilizados para tomar decisiones vinculadas a la planificación, ya que permiten

- A. medir la extensión y la organización del territorio.
- B. representar fenómenos sociales, físicos y ambientales.

- C. definir zonas de mayor desarrollo económico
- D. identificar las zonas que se encuentran en riesgo.

21. La medición de los movimientos sísmicos mediante la utilización de los sismógrafos permite identificar

- A. el choque de las placas tectónicas,
- B. la posibilidad de una avalancha,
- C. el dinamismo de la superficie de la Tierra,
- D. la expansión de la corteza terrestre.

22. Desde algunas corrientes teóricas el territorio es concebido como una construcción social, ya que

- A. el hombre define y configura los paisajes.
- B. los fenómenos naturales pueden ser controlados.
- C. la sociedad modifica y apropia el entorno.
- D. las condiciones ambientales determinan la cultura.

23. Desastres como el de Armero, en el que murieron alrededor de 25.000 personas a causa de un flujo de todo, podrían evitarse desde los impactos y efectos sociales si

- A. el gobierno impidiera la ubicación de población en zonas de amenaza.
- B. la construcciones fueran edificadas con estrictas normas sismorresistentes.
- C. a población no asumiera actitudes y prácticas de arraigo material.
- D. funcionaran y atienden adecuadamente los sistemas de alerta temprana.

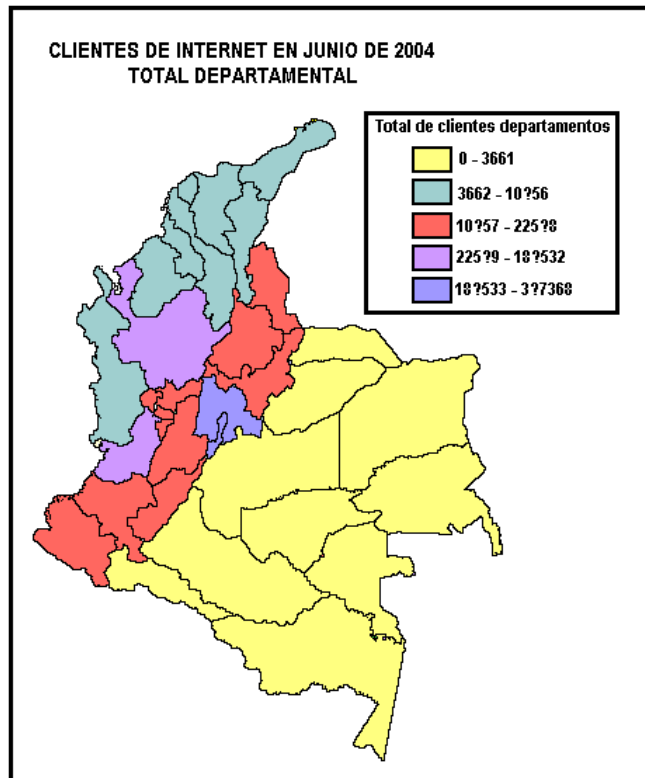
24. Las zonas históricas de las ciudades latinoamericanas tienen una estructura urbana similar. Estas semejanzas se relacionan con

- A. el modelo de fundaciones que trajeron e implementaron los europeos.
- B. la reproducción de modelos similares entre los diferentes países del continente.
- C. la ausencia y el desinterés por la diferencia cultural y arquitectónica.
- D. el poco desarrollo de la creatividad para generar procesos urbanos heterogéneos.

25. Las invasiones, que son de diferentes tipos, en general tienen motivaciones originadas por

- A. el interés de controlar territorios con alguna ventaja geopolítica o de recursos.
- B. las diferencias culturales manifestadas en credos y religiones incompatibles,
- C. la pretensión de homogeneizar las prácticas culturales y económicas,
- D. los problemas ambientales que presionan a los pueblos a migrar hacia otras zonas.

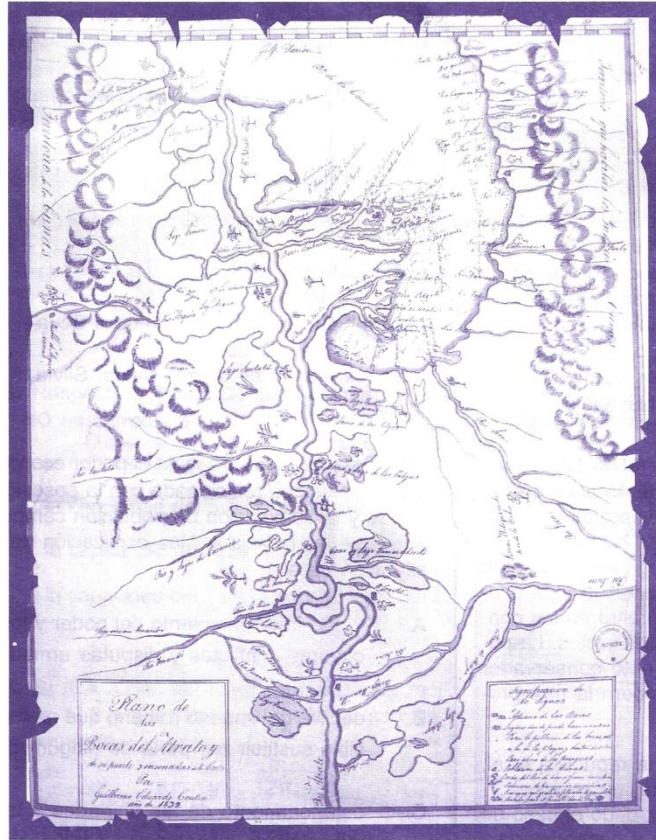
26. Observa el siguiente mapa que representa el número de clientes de Internet en Colombia para el año de 2004.



De la lectura del mapa se puede inferir que

- A. los departamentos con mayor conexión a Internet tienen menores niveles de pobreza.
- B. la conexión a internet refleja una fuerte concentración económica y poblacional.
- C. los habitantes de la costa Caribe y Pacífica no se interesan por el uso de Internet.
- D. toda la población de los Llanos Orientales y de la Amazonía no puede acceder a internet.

RESPONDA LAS PREGUNTAS 27, 28 Y 29 A PARTIR DE LA LECTURA DEL SIGUIENTE MAPA



Mapa que representa las bocas del río Atrato elaborado en 1852.

Fuente: Archivo General de la Nación.

27. Algunos mapas históricos permiten identificar las geoformas costeras en un momento específico. La geoforma generada por los sedimentos que arrastra el río Atrato al llegar a la zona costera se denomina

- A. bahía.
- B. delta.
- C. ensenada.
- D. golfo.

28. Antes de desembocar en el golfo del Darién, hoy denominado golfo de Urabá, el río Atrato se conecta con muchas ciénagas y ríos menores. En general los grupos indígenas no habitaban permanentemente estas zonas porque

- A. la oferta de peces era más abundante en la costa cerca al mar.
- B. ofrecían desventajas estratégicas frente a los ataques de otros grupos.
- C. se inundaban fácilmente en las temporadas lluviosas.
- D. eran foco de enfermedades que generaban muchas muertes.

29. Si observáramos un mapa actual para la zona del golfo de Urabá y lo comparáramos con el de 1852 se podría señalar que la desembocadura del río Atrato

- A. se ha mantenido exactamente en la misma posición.
- B. ha cambiado levemente en algunas de las bocas.
- C. se encuentra en una posición totalmente diferente.
- D. ha rellenado gran parte del golfo y las costas.

PREGUNTAS DE SELECCIÓN MÚLTIPLE CON MÚLTIPLE RESPUESTA - TIPO IV

Estas preguntas constan de un enunciado y 4 opciones relacionadas con él, identificadas con los números 1, 2, 3 y 4. Solo dos de estas opciones responden correctamente el enunciado. Seleccione la respuesta correcta de acuerdo con el cuadro que aparece a continuación.

- Si 1 y 2 son correctas, rellene el óvalo A
- Si 2 y 3 son correctas, rellene el óvalo B
- Si 3 y 4 son correctas, rellene el óvalo C
- Si 2 y 4 son correctas, rellene el óvalo D

30. El humanismo europeo profundizó en el estudio de los griegos para enriquecer el conocimiento sobre el hombre y el universo. Sin embargo, a esta mirada se opuso parte de la iglesia Católica, por considerar que con la filosofía griega el hombre se apartaba de la fe; mientras que otro sector apoyó algunos de los planteamientos humanistas. A partir de lo anterior podemos inferir que

- 1. el humanismo impulsó el conocimiento científico sobre el hombre y el universo.
- 2. las posiciones de la Iglesia y del humanismo tuvieron puntos de encuentro.
- 3. las posiciones de la Iglesia y del humanismo fueron completamente opuestas.
- 4. la Iglesia ganó la discusión con el humanismo utilizando argumentos científicos.

RESPONDA LAS PREGUNTAS 31 A 33 DE ACUERDO CON LA SIGUIENTE INFORMACIÓN.

Composición del PIB (Como % del PIB)			
	1985	1991	1995
PIB	100	100	100
Sector Primario	24.2	26.8	23.9
Sector Secundario	26.6	25.2	23.5
Sector Terciario	48.9	48.1	49.6

Fuente: DANE

31. De acuerdo con el cuadro anterior, puede decirse que entre 1985 y 1995

- A. el sector agrícola aportó cerca de la mitad del PIB colombiano.
- B. la debilidad del sector industrial impidió un aporte significativo al PIB.
- C. el sector servicios aportó casi la mitad del PIB colombiano.
- D. los sectores manufacturero y minero aportaron una cuarta parte del PIB.

32. La expresión PIB significa

- A. Proporción de Ingresos Básicos.

- B. Producto Interno Bruto.
- C. Producción Industrial Bruta.
- D. Producto Interno Básico.

33. Para elaborar el cuadro, el Dañe tuvo que conseguir datos acerca de la producción

- A. minera, pecuaria, construcción, manufacturera e industrial.
- B. agrícola, comercial, telecomunicaciones y servicios domésticos.
- C. agrícola, minera, manufacturera, industrial y de servicios.
- D. pecuaria, comercial, transportes y servicios financieros.

34. Una de las consecuencias más evidentes del narcotráfico en las últimas décadas en Colombia ha sido la compra masiva de fincas por parte de los narcotraficantes. Se puede decir que dichas compras les han servido para

- A. "blanquear" capitales ilícitos, acumular ahorros valorizables y disponer de áreas de refugio y seguridad.
- B. iniciar procesos de concentración de la propiedad urbana y acumulación de capital.
- C. reactivar la producción agropecuaria y campesina, aumentando la producción alimentaria.
- D. reactivar procesos agroindustriales con inversiones de capital destinadas a la exportación de alimentos.

35. Desde la lógica económica del mercado, la compra y acumulación de tierras es atractiva porque

- A. se constituye en motor de redistribución y fomento de la propiedad rural.
- B. valoriza la inversión pública y posibilita el acceso general a servicios públicos.
- C. se constituye en un ahorro a largo plazo que se valoriza con inversión pública.
- D. se apoya en el libre juego del mercado y fomenta la agricultura de subsistencia.

36. La Revolución Francesa fue un proceso social y político que se desarrolló en Francia entre 1789 y 1799, cuyas principales consecuencias fueron la abolición de la monarquía absoluta y la proclamación de la República. Lo anterior significa que la Revolución Francesa

- A. defendió la existencia de derechos restringidos a los súbditos.
- B. promovió la independencia de los Estados Unidos.
- C. fomentó la difusión de los principios socialistas.
- D. instauró el sistema democrático moderno.

37. En un régimen democrático, cuando un científico social examina el porcentaje de electores que concurrieron a votar en determinadas elecciones parlamentarias o presidenciales, lo hace para

- A. conocer la distribución de votos entre los diferentes partidos políticos.
- B. establecer el nivel de participación popular en la toma de decisiones.
- C. examinar la legalidad de las votaciones y garantizar su transparencia.
- D. conocer la existencia de delitos contra el sufragio como la compra de votos.

38. Desde un enfoque liberal contemporáneo, una manera de promover la participación política de los ciudadanos y ciudadanas en la democracia colombiana es

- A. ofreciendo incentivos económicos importantes a quienes participen en elecciones.
- B. difundiendo masivamente la Declaración Universal de los Derechos Humanos.**
- C. otorgando mayores facultades de control y vigilancia a la sociedad civil y al parlamento.
- D. estableciendo el voto obligatorio para todos los ciudadanos, bajo pena de multas costosas.

39. Durante la huelga de las Bananeras en 1928 -que terminó en la masacre de un número indeterminado de obreros bananeros por parte del ejército- el pliego de peticiones del sindicato exigía a la empresa United Fruit, la eliminación general de contratistas, el aumento general de salarios, el descanso dominical remunerado, la indemnización por accidentes y la construcción de viviendas dignas para los obreros. Tales solicitudes fueron tildadas de subversivas por parte de la empresa y el gobierno, porque

- A. se relacionaban con la Revolución de Octubre de 1917.
- B. estimulaban la formación de núcleos revolucionarios entre los obreros bananeros.
- C. facilitaban la elevación de la conciencia política de los obreros sindicalizados.
- D. expresaban los principios básicos de la ideología comunista desarrollada por Carlos Marx.**

40. Algunos historiadores consideran que el gobierno del General Gustavo Rojas Pinilla no fue una dictadura porque

- A. llegó al poder como fruto de una decisión democrática de amplios sectores políticos.
- B. adelantó un gobierno liberal, que atendió a los pobres y realizó obras públicas.**
- C. mantuvo vigentes las principales libertades democráticas y logró la paz con las guerrillas.
- D. llegó al poder como fruto de acuerdos entre los líderes de los partidos políticos tradicionales.

41. La hidrografía de Colombia está integrada por cinco vertientes Caribe, Orinoco, Amazonas, Catatumbo y Pacífico. La vertiente del Caribe es la más extensa y está integrada por cuencas

- A. de los ríos Arauca, Meta, Tomo, Vichada, Guaviare y Magdalena.
- B. de la Sierra Nevada de Santa Marta, Guajira, Magdalena-Cauca, Sinú y Atrato.**
- C. de los ríos Baudó, San Juan, Paria y Mira.
- D. de los ríos Vaupés, Caquetá y Putumayo.

42. Según el economista y antropólogo Darío Fajardo, por tierra se entiende la base física y productiva del territorio. Por territorio se entiende el conjunto de relaciones y representaciones que se construyen a partir de la tierra. Según lo anterior un análisis territorial implica tener en cuenta,

- A. la cultura como producto de las condiciones configuradas por el entorno predominando lo económico.
- B. las relaciones culturales y económicas que se tejen entre la población y los recursos naturales.**
- C. el predominio de los recursos naturales sobre la cultura en el proceso histórico de formación social.
- D. que la cultura poco incide en los procesos económicos y en la explotación de los recursos naturales.

43. La interpretación de fotografías aéreas es una técnica utilizada en la geografía para obtener, describir y analizar la superficie terrestre. Con esta técnica es posible,

- A. predecir erupciones volcánicas y otros desastres naturales.
- B. analizar los usos del suelo de determinado espacio.**
- C. modificar los índices de contaminación de una cuenca hidrográfica.
- D. captar las diferencias de los horizontes del suelo.

44. Algunos paisajes del mundo se caracterizan y diferencian por tener cárcavas, colinas, dunas y acantilados; cada uno de estos paisajes han sido modelados por diferentes procesos de carga y arrastre de sedimentos, posibles por la fragmentación de las rocas. En el caso de la formación de dunas el proceso dominante es la

- A. carga y arrastre de sedimentos aluviales.
- B. caída y fragmentación de materiales coluviales.**
- C. erosión eólica en zonas de altas y bajas temperaturas.
- D. presencia de cantos rodados de tamaños variados.

45. James O'Connor, crítico del desarrollo sostenible, argumenta que este discurso desarrollista tiene diferentes interpretaciones: una de ellas es apoyar, mantener el curso y preservar un estado de cosas, por lo tanto beneficia a los interesados en resguardar el capital y su acumulación; también significa proveer de alimentos y en general de medios de vida a la población presente y futura. Estas interpretaciones que el autor menciona evidencian que

- A. el desarrollo es un problema ideológico y político antes que un problema ecológico y económico.**
- B. debemos preservar los recursos naturales no renovables para las generaciones futuras.
- C. el desarrollo sostenible es viable si decidimos protocolos económicos y utilizamos tecnologías limpias.
- D. todos los sectores económicos y sociales entienden lo mismo cuando se habla de desarrollo sostenible.

46. La región como concepto e instrumento de análisis geográfico permite diferenciar la superficie terrestre, caracterizando su homogeneidad relativa, en función de un nivel de escala local, nacional o internacional de descripción y de temáticas demográficas, económicas, culturales, políticas o físicas geográficas. De esta manera, para delimitar una región se debe

- A. buscar que en ésta se aprecien similitudes culturales, naturales y económicas.
- B. definir un factor que permita que la región delimitada sea homogénea.**
- C. definir una escala de descripción y análisis junto con la temática a regionalizar.
- D. establecer factores interrelacionados que definan los límites regionales.

47. La variedad de las formas de producción que hay en Colombia se explica en parte por la estrecha relación entre la diversidad física de su geografía y los procesos de poblamiento y adaptabilidad de la población, que apropia de diversas maneras las variadas condiciones geográficas. De acuerdo con lo anterior, para describir los procesos productivos de cada región se debe tener en cuenta

- A. la diversidad físico-geográfica y la adaptabilidad de la fuerza de trabajo.**
- B. la homogeneidad geográfica, el trabajo y los procesos sociales.
- C. la disposición de recursos naturales y los procesos de poblamiento.
- D. la geografía como espacio de los recursos naturales y del capital cultural.

48. A lo largo de la historia, las diferentes civilizaciones y culturas han desarrollado distintas técnicas, herramientas y procesos para suplir sus necesidades, esto hace que las mismas necesidades se suplan de maneras diferentes. Un ejemplo de esta situación en Colombia es que

A. los paisas usan poncho y carriel, mientras que las comunidades indígenas usan manta y mochila de lana.

B. la necesidad de alimentos como carbohidratos, se suple en la región Andina con papa y en el Caribe con plátano.

C. los bogotanos usan ropa apropiada para climas fríos en tanto los caribeños, no necesitan ropa para el frío cuando viajan a Bogotá.

D. las poblaciones ribereñas de las cuencas del Pacífico no necesitan arados, como las comunidades campesinas de ladera en cundinamarca.

49. El geógrafo norteamericano David Harvey afirma que "Podemos tomar diariamente nuestro desayuno sin pensar en la cantidad de gente que participó en su producción, y que todas las huellas de explotación están borradas del objeto, no hay marcas de dedos de la explotación en el pan de todos los días.", la cita anterior intenta mostrar

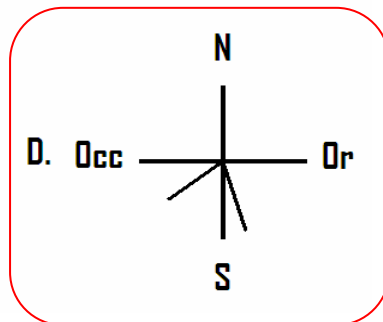
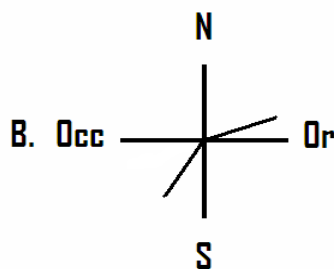
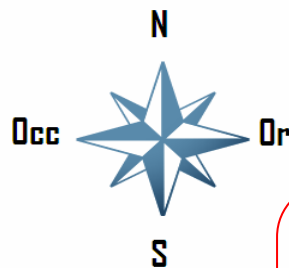
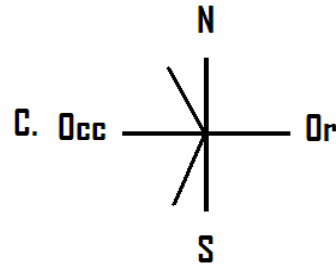
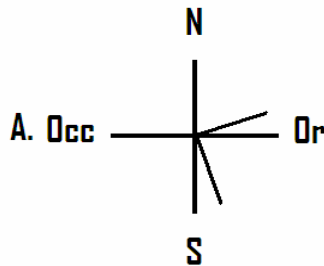
A. el aprecio que sentimos los habitantes de las ciudades por los campesinos.

B. los ritos religiosos que se practican antes de las diferentes comidas.

C. la solidaridad de los habitantes de la ciudad hacia quienes viven en el campo.

D. la explotación a la que están sometidos quienes producen alimentos.

50. El azimut es un concepto cartográfico que indica direcciones; se mide y expresa en grados de 0° a 360° desde el norte. Si en el centro del cuadrante está Bogotá, cuál opción representa los azimut que debe tomar un avión para hacer los recorridos Bogotá - Cali y Bogotá - Leticia



51. En el libro de Richard Sennet *La corrosión del Carácter*, el autor indica que "el fracaso es el gran tabú moderno. La literatura popular está llena de recetas para triunfar, pero por lo general callan en lo que atañe a la cuestión de manejar el fracaso. Aceptar el fracaso, darle una forma y un lugar en la historia personal es algo que puede obsesionarnos internamente, pero que rara vez se comenta con los demás". Uno podría pensar que una actitud reflexiva, crítica y constructiva frente a los fracasos propios y ajenos sería necesaria porque

- A. nos permite aprender a ser y a vivir a partir del examen de la experiencia.
- B. en ningún modo conviene pensar en el fracaso porque es negativo.
- C. la contemplación del fracaso de otros nos produce risa y da poder.
- D. el fracaso es inevitable y nada se puede hacer en contra de la fatalidad.

52. Dos teorías se oponen en el mundo contemporáneo: la primera, pone el acento en el poder redistributivo del Mercado y la segunda, hace énfasis en el papel del Estado para promover la equidad. La expresión según la cual "A los que tienen más se les dará más y a los que tienen menos se les quitará incluso lo que tienen" se puede aplicar a la

- A. segunda teoría, porque el Estado apropia recursos a través de los impuestos.
- B. primera teoría, porque la mera relación de oferta y demanda no produce equidad.
- C. segunda teoría, porque el Estado nunca ha sido un buen redistribuidor de los recursos.
- D. primera teoría, porque el mercado posee su "mano invisible" que da ventajas a todos.

53. Para examinar las creencias de la población en torno al matrimonio, el mejor camino es

- A. preguntar a la Iglesia por las creencias de los fieles católicos.
- B. preguntar al Estado por las creencias religiosas de los ciudadanos.
- C. interrogar a algunos matrimonios sobre sus creencias.
- D. diseñar una encuesta, organizar el muestreo, aplicar e interpretar.

54. Para estudiar las ideas de la población sobre el Estado y la Justicia, un científico social debe

- A. realizar encuestas, entrevistas, estadísticas y revisar bibliografía secundaria, porque se obtienen muchas perspectivas directas e indirectas.
- B. consultar la opinión autorizada de científicos sociales, porque son autoridades académicas indiscutibles.
- C. medir la opinión de la gente sobre sus creencias, porque se deriva de lo que la misma gente piensa.
- D. indagar las ideas de los organismos del Estado sobre el tema, porque el Estado es la entidad que sabe de todo.

55. Según las interpretaciones sociales más sólidas en torno a la modernidad y el desarrollo de la democracia, la separación de la iglesia y del Estado, como la que existe en los Estados Unidos, Francia o México, puede ser considerada como un paso necesario para

- A. acabar con las ilusiones y supersticiones religiosas.
- B. favorecer la libertad, la igualdad y los derechos humanos.
- C. imponer una religión desde el Estado.
- D. estimular el libre desarrollo de los mercados.

56. Se afirma que "entre gustos no hay disgustos". Pero la realidad muestra que esa es una sabiduría bienintencionada, pero no frecuente en la práctica, porque por materias y gustos como la comida, la forma de ejercer la sexualidad o el modo de ocupar el tiempo libre, hay no sólo diferencias, sino en muchas ocasiones motivos de conflictos muy agudos. Frente a una situación de estas, se debe asumir que

A. cada cual es libre de escoger sus gustos y de imponerlos a los demás.

B. los gustos son asuntos de poca monta y no merece la pena estudiarlos.

C. es importante que el Estado apruebe un grupo de gustos.

D. es necesario entender los gustos y las diferencias como factores culturales.

57. Distintas cosmovisiones filosóficas y religiosas se enfrentan hoy en el mundo contemporáneo. Reconocer el panorama de estas diferencias, situarlas en sus marcos históricos y precisar sus conceptos, son pasos fundamentales para entenderlos porque

A. el mundo es complejo y requiere que cada cual halle una justificación razonada para orientarse en él.

B. solo de esta manera podremos establecer relaciones cordiales con distintas personas.

C. nos da argumentos para derrotar a quienes opinan de una manera diferente y opuesta a la nuestra.

D. nos permite ubicar a quienes piensan como nosotros y de esta manera poder aliarnos con ellos.

58. Ante un fenómeno social tan cuestionable como el abuso sexual a menores, la solución de prevención y justicia que mejor conviene es

A. estudiar los fenotipos criminales desde la infancia e imponer una vigilancia especial ante los sospechosos.

B. mejorar la educación familiar mediante el afecto y aplicar una pena severa de larga prisión a los autores de estos crímenes.

C. establecer cámaras de vigilancia al interior de escuelas y colegios, para prevenir la ocurrencia de estos casos.

D. implantar a toda la población un aparato electrónico que mida en el cerebro las tendencias criminales.

59. Galileo, el científico, fue acusado por la Iglesia por desafiar cosmovisiones religiosas. Las teorías de Darwin han sido rechazadas por corrientes religiosas que impugnan la teoría de la evolución. Lo anterior demuestra que

A. los científicos en muchos casos no respetan las creencias religiosas, para hacer compatibles la ciencia y la fe.

B. ciencia y religión parten de postulados y de modos de obrar diferentes, y a veces entran en conflictos inevitables.

C. las verdades de la ciencia son productos muchas veces del azar y no toman en cuenta a la religión.

D. a la larga, la religión demostrará lo insostenibles que son las teorías de Galileo y de Darwin.

60. El libro de Francisco José de Caldas "Influencia del clima sobre los seres organizados" es un texto clásico del pensamiento colombiano en el cual el sabio payanes describió cómo los cambios de pisos térmicos no sólo se manifiestan en diferencias de flora y fauna, sino también en modos de ser de los habitantes. No obstante, desde enfoques críticos de las ciencias sociales del siglo XX podría juzgarse que Caldas tiende a caer en cierto determinismo geográfico porque

- A. concede demasiado peso a los factores económicos.
- B. no considera la autonomía relativa de la cultura.**
- C. se centra demasiado en la descripción de los paisajes.
- D. descuida el análisis de los fenómenos religiosos.